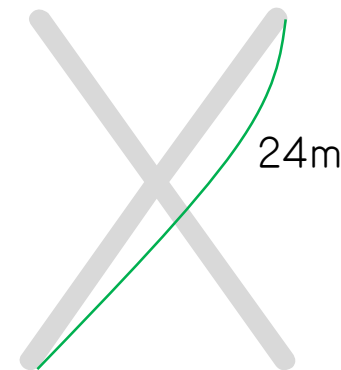

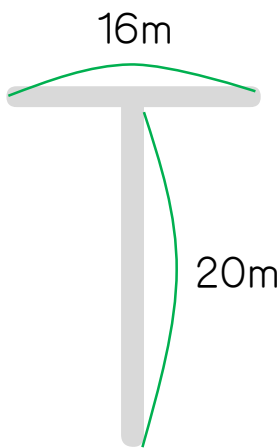
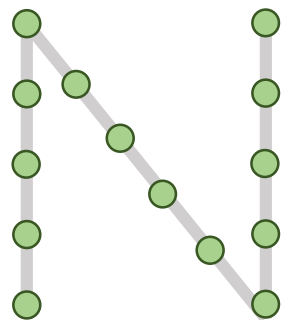


1. ある本を、1日目は全体の $\frac{1}{3}$ 読み、2日目は残りの $\frac{3}{5}$ 読み、3日目は36ページを読んだら読み終えることができました。この本は何ページですか。

2. 120cmのロープを等しい長さに切るために、ロープにマジックで印を付けていきます。15cmおきに切るとすると、何か所に印を付ければよいですか。

3. お年玉の $\frac{7}{16}$ でゲーム機本体を買い、残りの $\frac{1}{3}$ でゲームソフトを買ったら2880円が残りしました。お年玉は、いくらもらいましたか。

4. 下のような道があります。ここに下の絵の「N」のように4mおきに木を植えていきます。「TOX」に木を植えるとき、木は全部で何本準備すればよいですか。「N」の木の本数は含めません。



1周36m

1. 135ページ

2. 7か所

3. 7680円

4. 32本