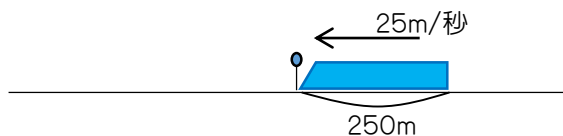
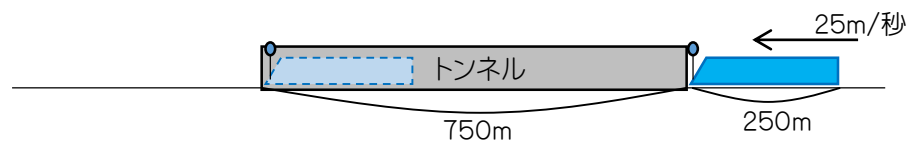


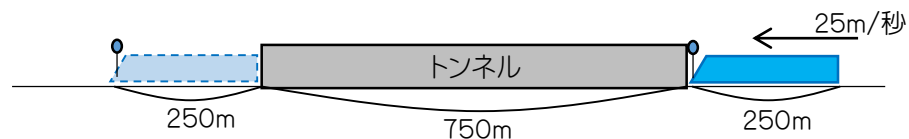
1. 下の絵のように、長さ250mの列車が秒速25mで、Tくんの前を通過します。通過し始めてから通過し終わるまでに何秒かかりますか。



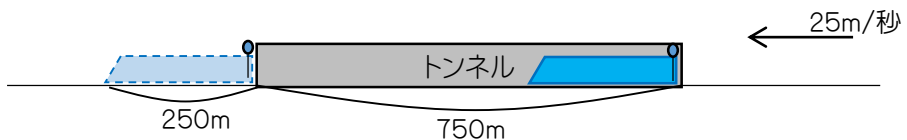
2. 下の絵のように、長さ250mの列車が秒速25mで、750mの長さのトンネルに入り始めてから出始めるまでに何秒かかりますか。



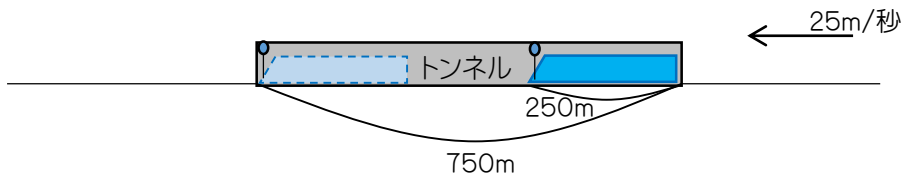
3. 下の絵のように、長さ250mの列車が秒速25mで、750mの長さのトンネルに入り始めてから出終わるまでに何秒かかりますか。



4. 下の絵のように、長さ250mの列車が秒速25mで、750mの長さのトンネルに入り終わってから出終わるまでに何秒かかりますか。



5. 下の絵のように、長さ250mの列車が秒速25mで、750mの長さのトンネルに入り終わってから出始めるまでに何秒かかりますか。



6. 長さ125mの列車が時速90kmで、Kくんの前を通過します。通過し始めてから通過し終わるまでに何秒かかりますか。

7. 長さ125mの列車が時速90kmで、長さ500mのトンネルに入り始めてから出始めるまでに何秒かかりますか。

1. 10秒

2. 30秒

3. 40秒

4. 30秒

5. 20秒

6. 5秒

7. 20秒