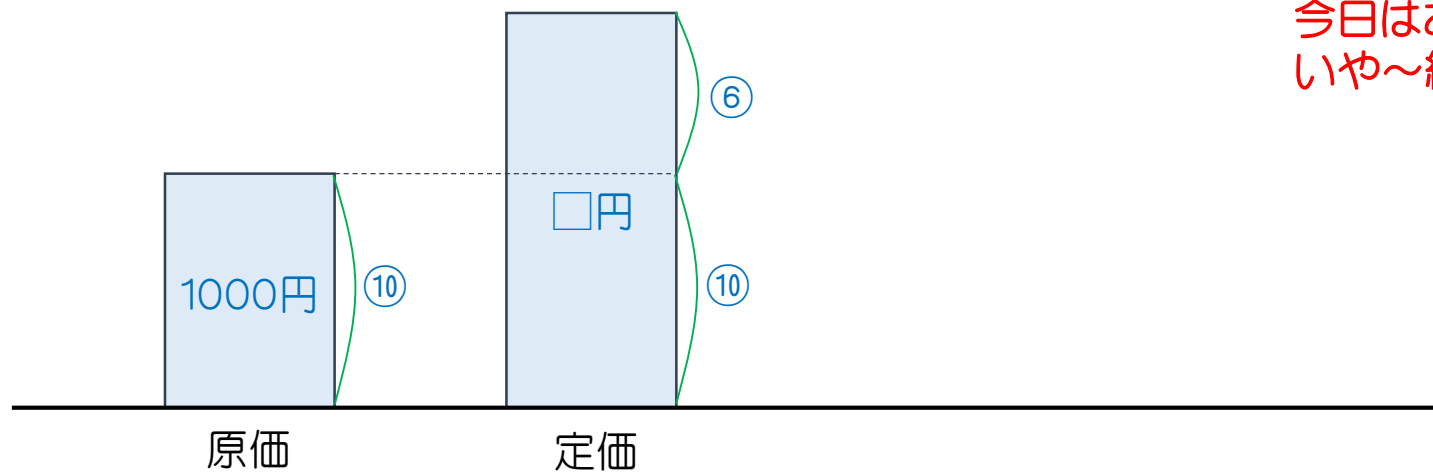
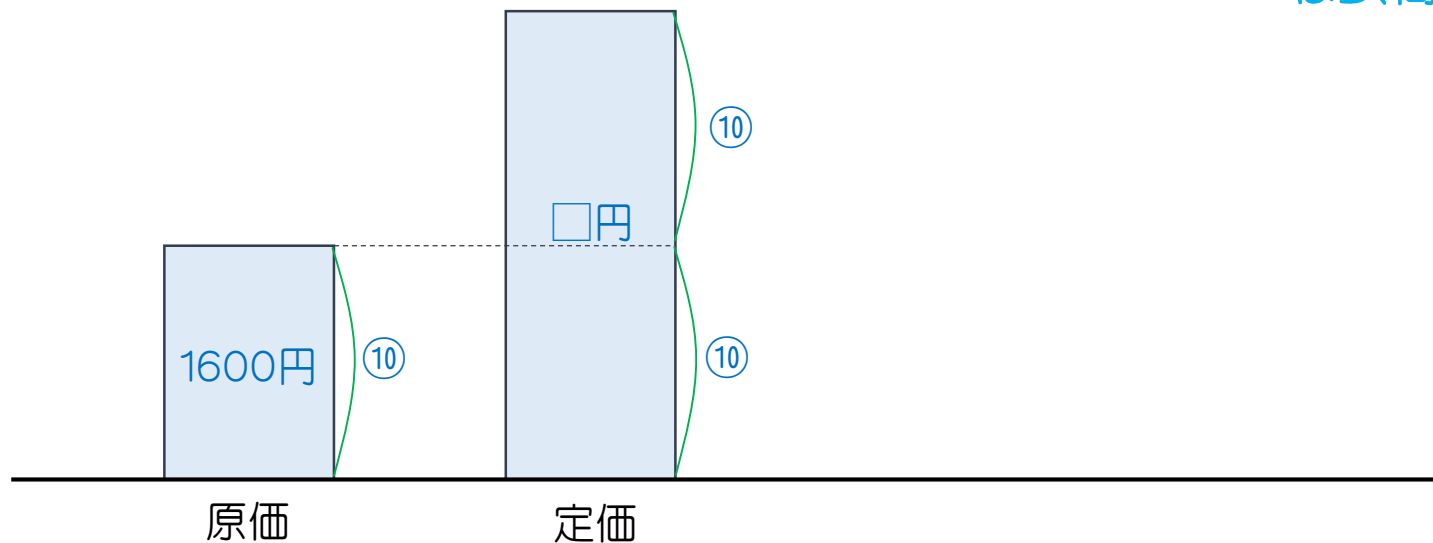


1. 原価1000円で仕入れてきた商品に、6割の利益を見込んで付けた定価はいくらですか。



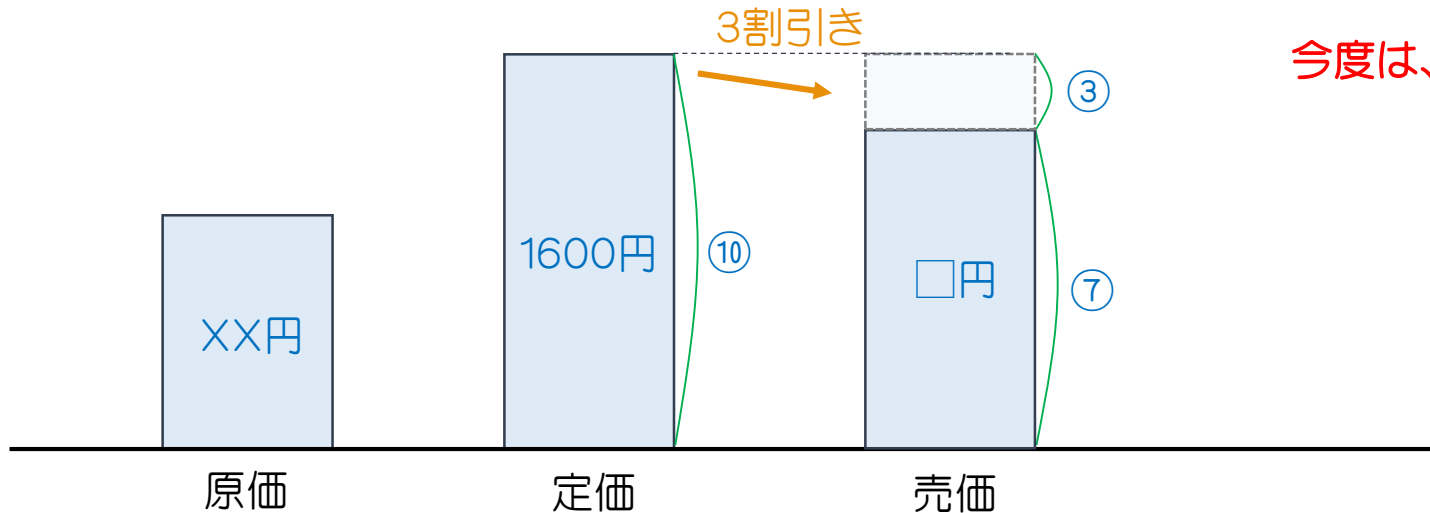
今日はありがたいことに、絵でヒントが出ます。
いや～絵を描くって、最高ですね～。

2. 原価1600円の商品に、10割の利益を見込んで付けた定価はいくらですか。



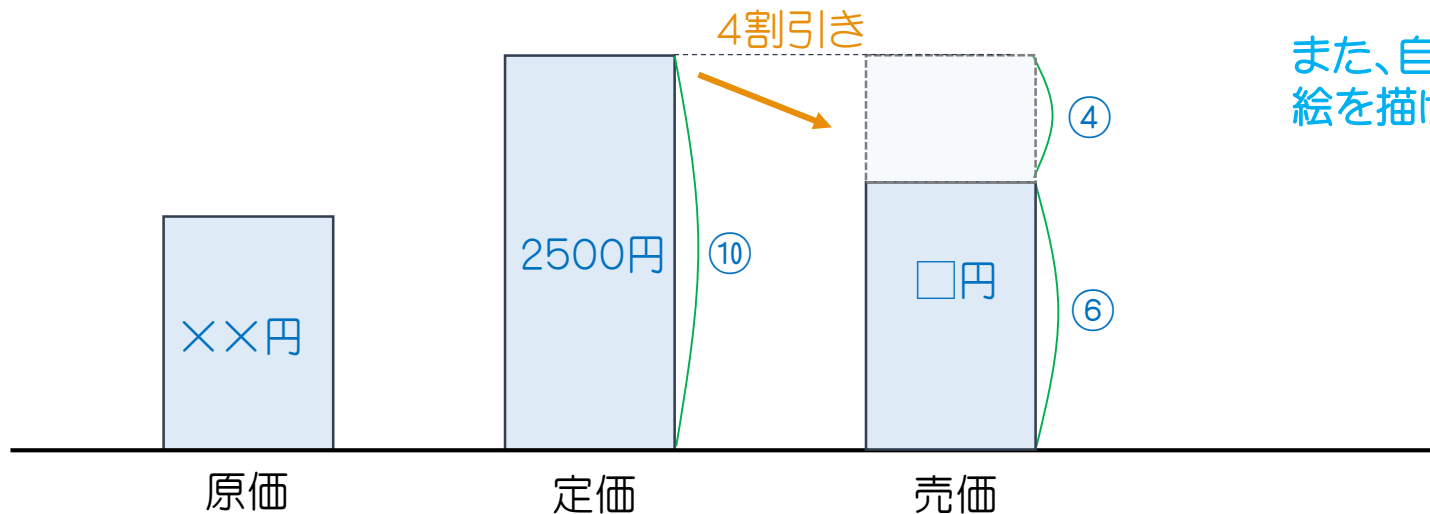
ほら、簡単に分かったでしょ？

3. 定価1600円の商品を3割引で売りました。売価はいくらになりますか。



今度は、定価を⑩にして考えるといいですね。

4. 定価2500円の商品を4割引で売りました。売価はいくらになりますか。



また、自分で絵を描いてみましょう。
絵を描けば、きっと正解できるでしょう！！

5. 2000円で仕入れてきた商品に、7割の利益を見込んで定価をつけました。定価はいくらですか。

6. 5.の問題において、商品がちょっと傷んできたので、値札を40%Offに書きかえました。
この商品が売れたとすると、この商品の売価を求めなさい。

7. では、利益はいくらになりますか。

8. 140円で仕入れてきた商品に、6割の利益を見込んで定価をつけました。定価はいくらですか。

9. 8.の問題において、商品の鮮度が損なわれてきたので、30%Offで売ることにしました。このときの、商品の売価を求めなさい。(小数で答えなさい)

10. この商品が100個売れました。さて、いくらもうかりましたか。

1. 1600円
2. 3200円
3. 1120円
4. 1500円
5. 3400円
6. 2040円
7. 40円
8. 224円
9. 156.8円
10. 1680円