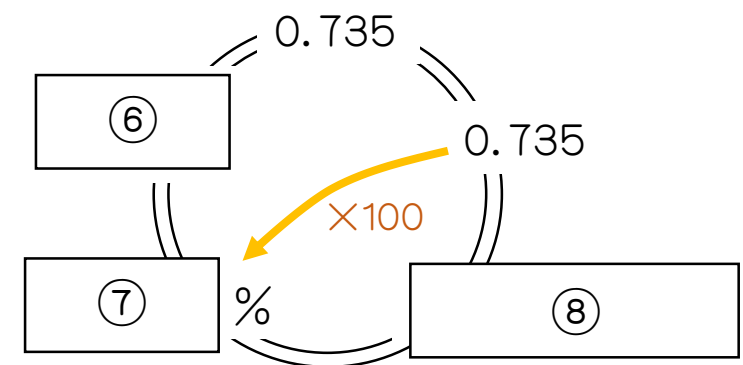
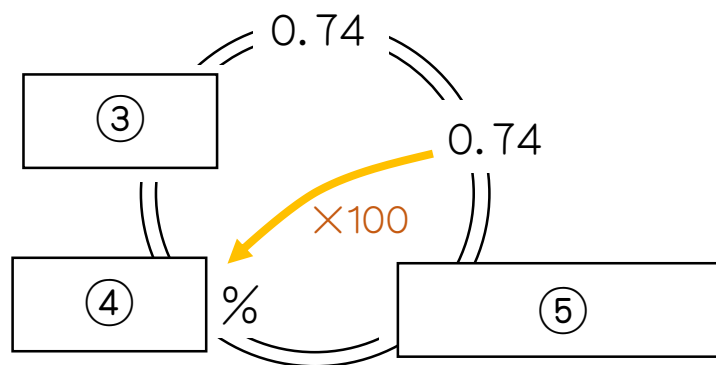
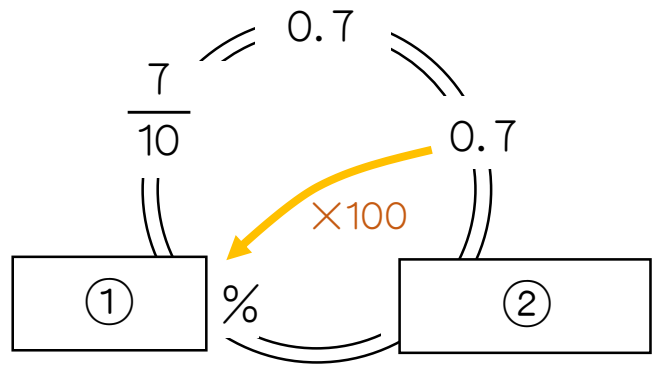
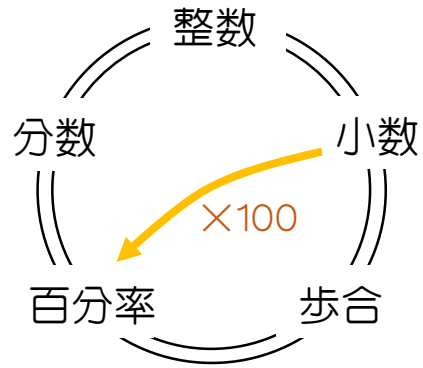
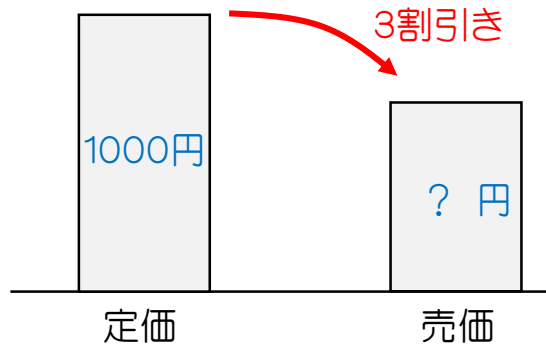


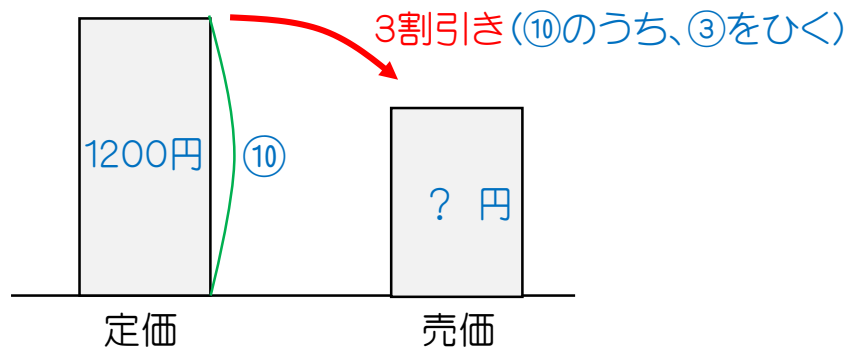
次のそれぞれの に入る数を答えなさい。ただし、①の答えは回答らんの1.、②の答えは回答らんの2.……というように、それぞれ書きなさい。



9. 1000円の3割引で商品が売っていました。このとき、商品の売価を求めなさい。



10. 1200円の3割引で商品が売っていました。商品はいくらですか。



11. イチローは昨年、2000回バッターボックスに立ちました。そのうちヒットを打ったのは684回です。このときの打率は何割何分何厘になりますか。

1. 70%

2. 7割

3. $\frac{37}{50}$

4. 74%

5. 7割4分

6. $\frac{147}{200}$

7. 73.5%

8. 7割3分5厘

9. 700円

10. 840円

11. 3割4分2厘