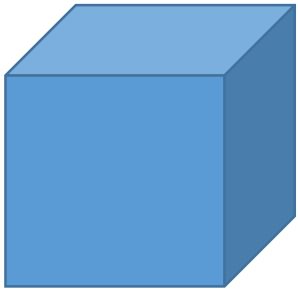
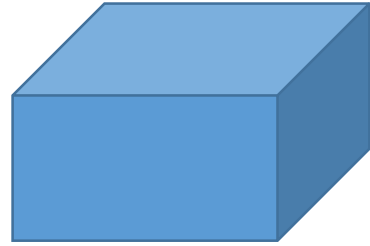


1.2. 次の立体の名称(めいしょう)を答えなさい。



①



②

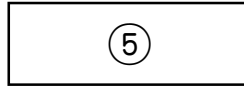
3.4.5. 次の□に当てはまる言葉を書きなさい。



とかがやく、

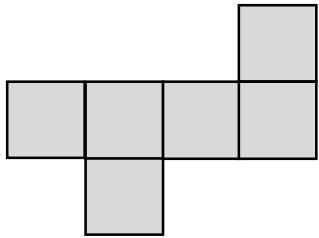


の



夫妻

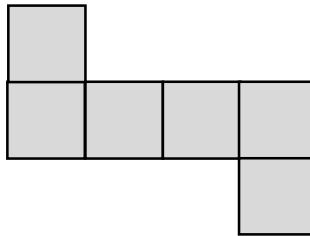
下の図のうち、組み立てると立方体になるものには○を、ならないものには×を回答らんには書き入れなさい。



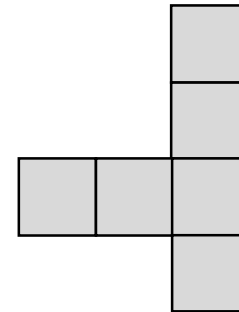
⑥



⑦



⑧



⑨

10. 一辺が6cmの立方体の表面積を求めなさい。

1. 立方体

2. 直方体

3. サンサン

4. 富士通

5. 石井

6. ○

7. ×

8. ○

9. ×

10.  $216\text{cm}^2$