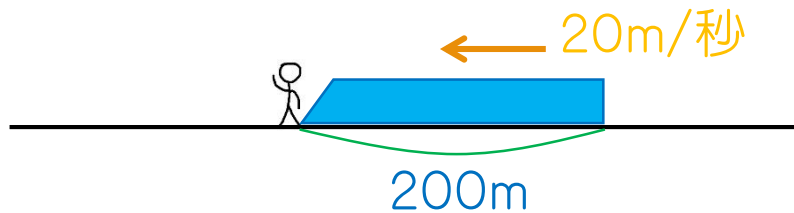
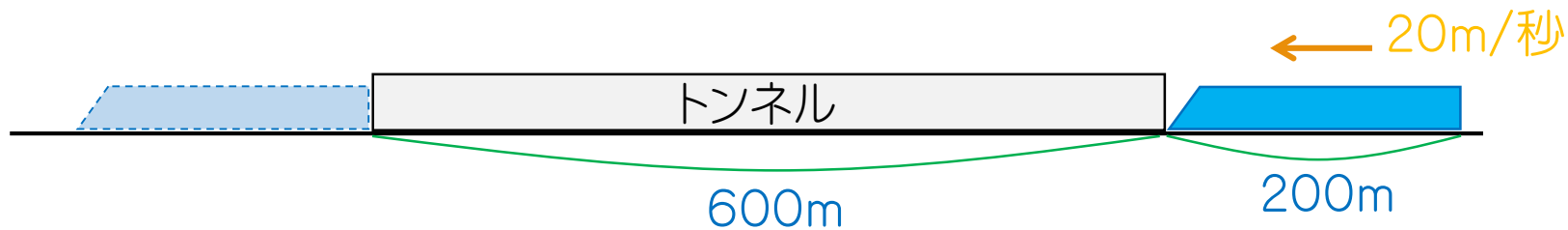


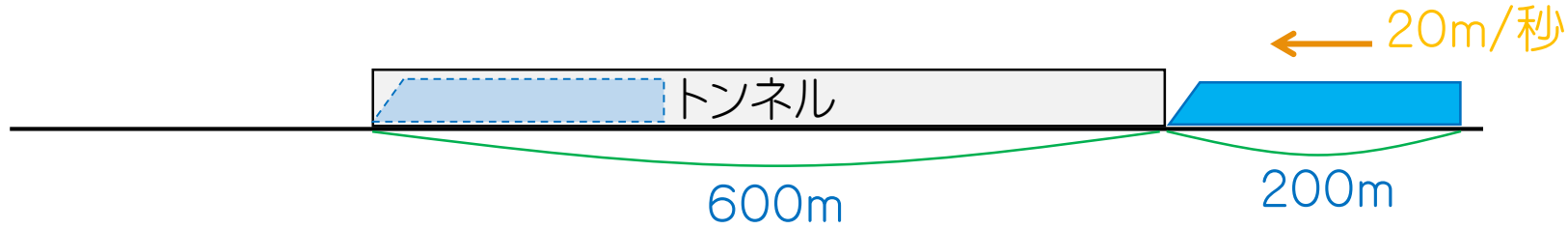
1. 下の絵のように、長さ200mの列車が秒速20mで、Tくんの前を通過します。通過し始めてから通過し終わるまでに何秒かかりますか。



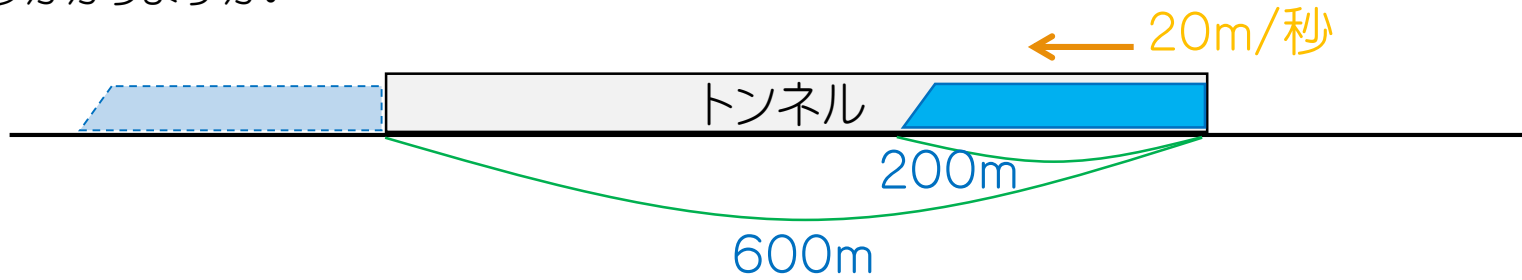
2. 下の絵のように、長さ200mの列車が秒速20mで、600mの長さのトンネルに入り始めてから出終わるまでに何秒かかりますか。



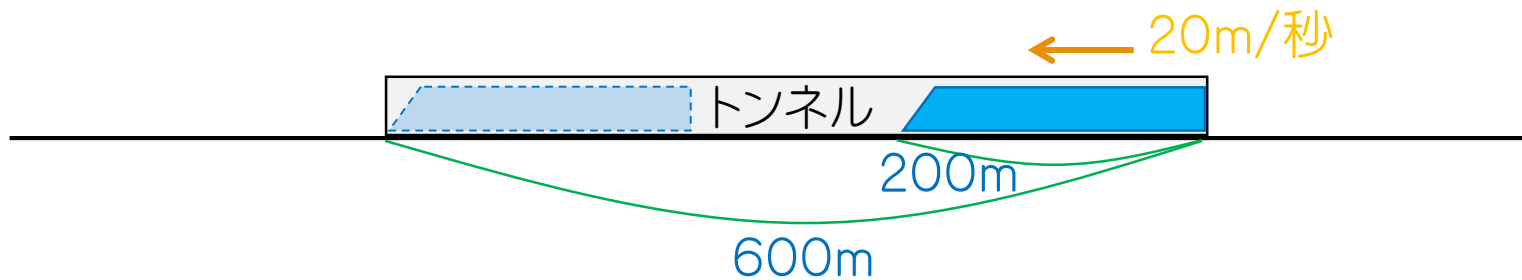
3. 下の絵のように、長さ200mの列車が秒速20mで、600mの長さのトンネルに入り始めてから出始めるまでに何秒かかりますか。



4. 下の絵のように、長さ200mの列車が秒速20mで、600mの長さのトンネルに入り終わってから出終わるまでに何秒かかりますか。



5. 下の絵のように、長さ200mの列車が秒速20mで、600mの長さのトンネルに入り終わってから出始めるまでに何秒かかりますか。



1. 10秒

2. 40秒

3. 30秒

4. 30秒

5. 20秒