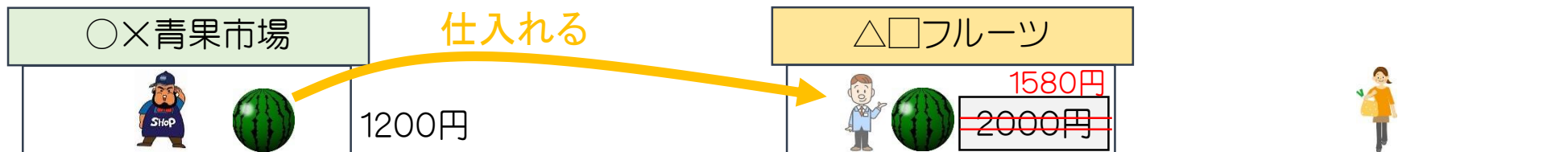
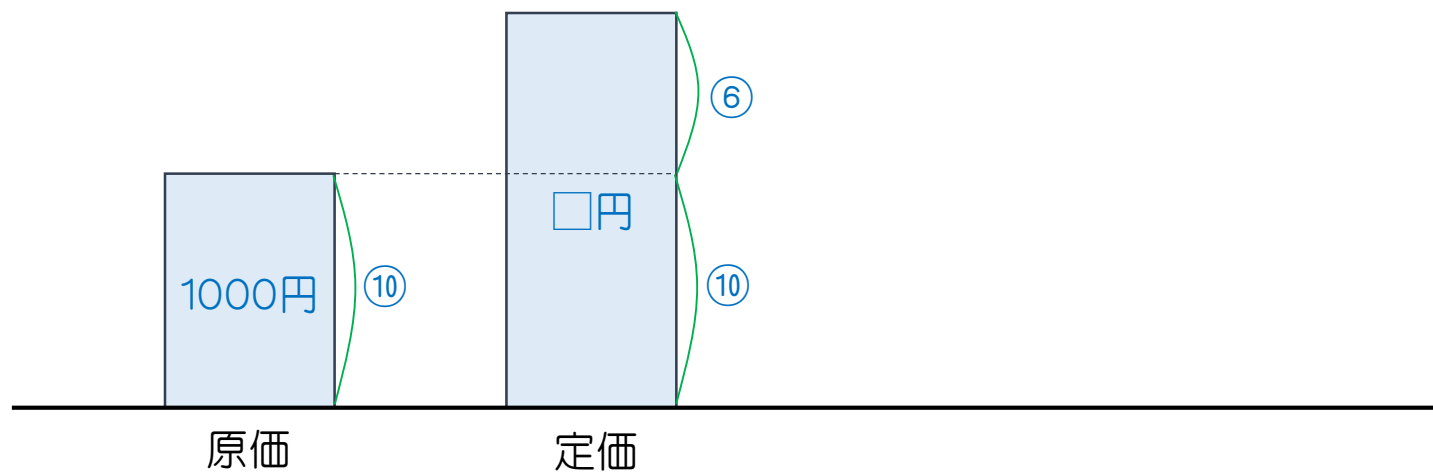


下の絵を見て、次の1.～4.の金額をそれぞれ書きなさい。

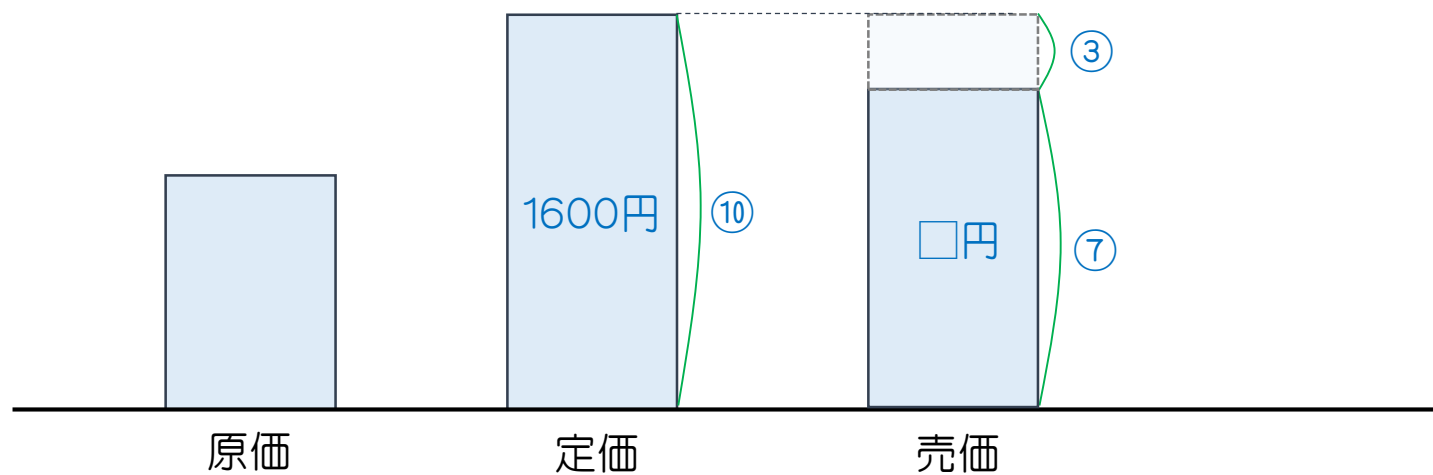


1. このスイカの原価はいくらですか。
2. このスイカの定価はいくらですか。
3. このスイカの売価はいくらですか。
4. このスイカを売ったときの、△□フルーツ店店長の利益はいくらですか。

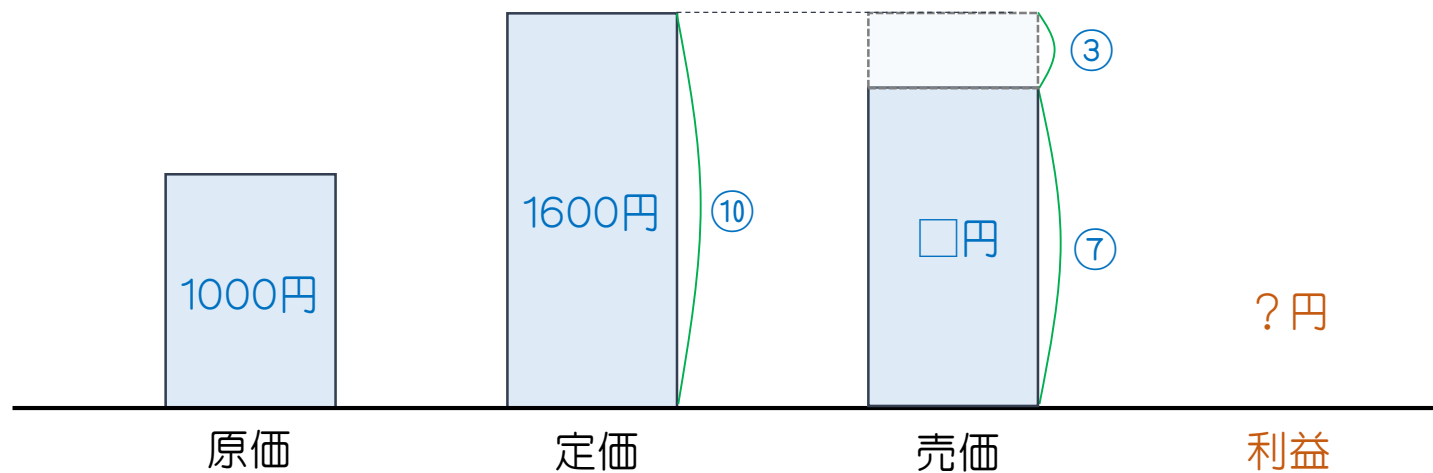
5. 原価1000円で仕入れてきた商品に、6割の利益を見込んで付けた定価はいくらですか。



6. 定価1600円の商品を3割引で売りました。売価はいくらになりますか。



7. 定価1600円の商品を3割引きで売りました。利益はいくらになりますか。



8. 2000円で仕入れてきた商品に、7割の利益を見込んで定価をつけました。定価はいくらですか。

9. 2000円で仕入れてきた商品に、7割の利益を見込んで定価をつけました。ところが、ちょっといたんできたので、値札を40%引きに書きかえました。このときの、売価を求めなさい。

10. 9.の問題で、40%引きで売ったときの利益はいくらですか。

1. 1200円
2. 2000円
3. 1580円
4. 380円
5. 1600円
6. 1120円
7. 120円
8. 3400円
9. 2040円
10. 40円