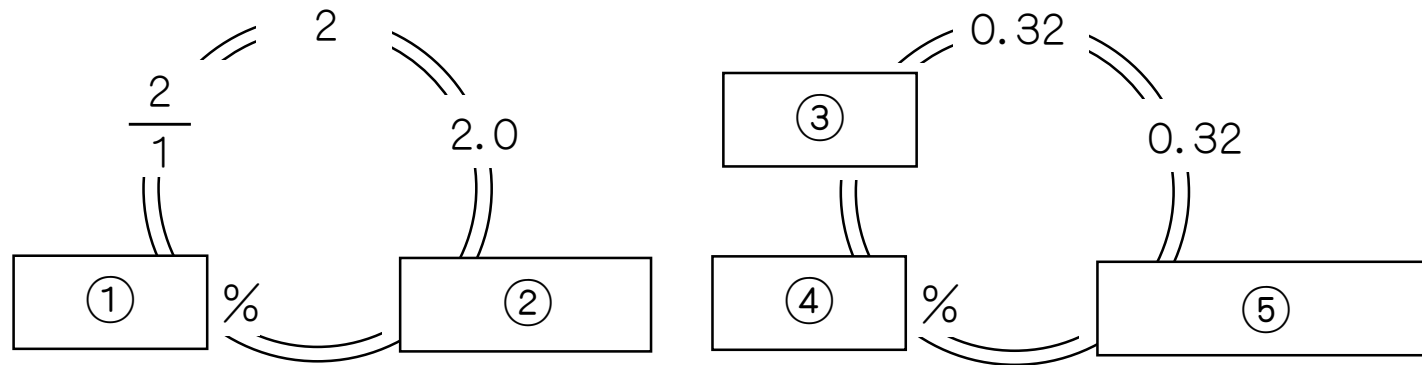
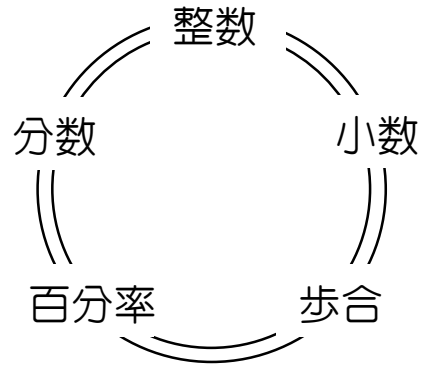
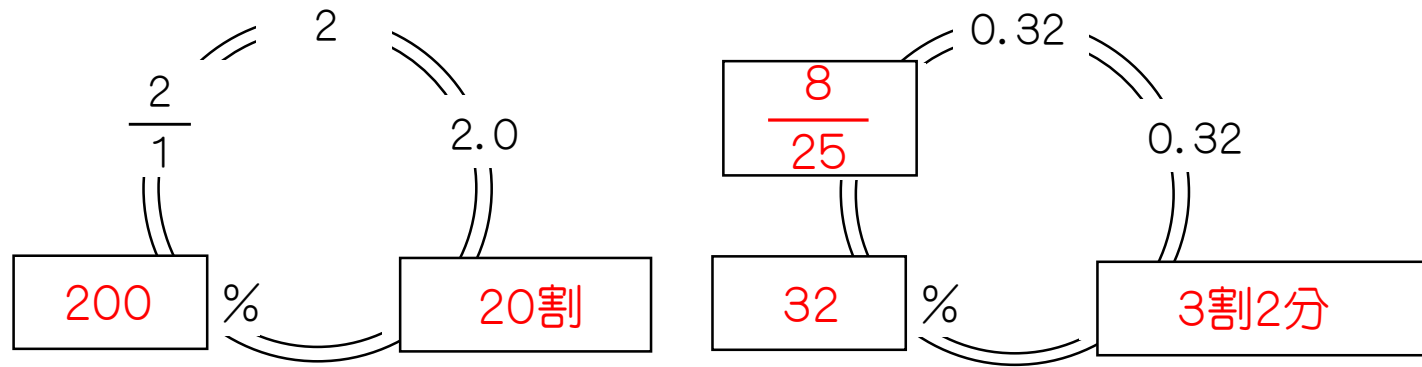
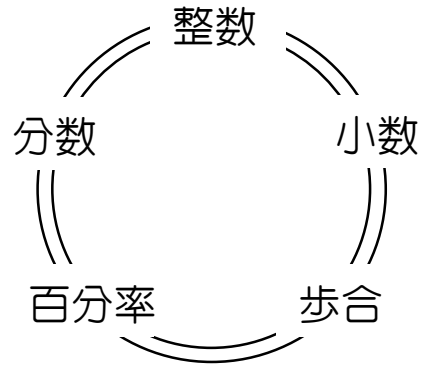


次のそれぞれの  に入る数を答えなさい。ただし、①の答えは回答らんの1.、②の答えは回答らんの2.……というように、それぞれ書きなさい。



7. 1000円の3割引で商品が売っていました。商品はいくらですか。
8. 10000円の半額は5000円ですね。次の中で5000円にならないのはどれでしょう。記号で選びなさい。  
A. 10000円の5割引    B. 10000円の50%OFF    C. 無料
9. 現在消費税は8%です。100円のものを買ったら108円になるということですね。それでは、300円のものを買ったとしたら、いくらになるでしょうか。
10. イチローは昨年、1000回バッターボックスに立ちました。そのうちヒットを打ったのは342回です。このときの打率は何割何分何厘になりますか。

次のそれぞれの  に入る数を答えなさい。ただし、①の答えは回答らん①の1.、②の答えは回答らん②の2.……というように、それぞれ書きなさい。



7. 700円

8. C.無料

9. 324円

10. 3割4分2厘